

2 スバルさんは、地元の本曾三川の防災について、図4中X・Yの地域で調査を行った。

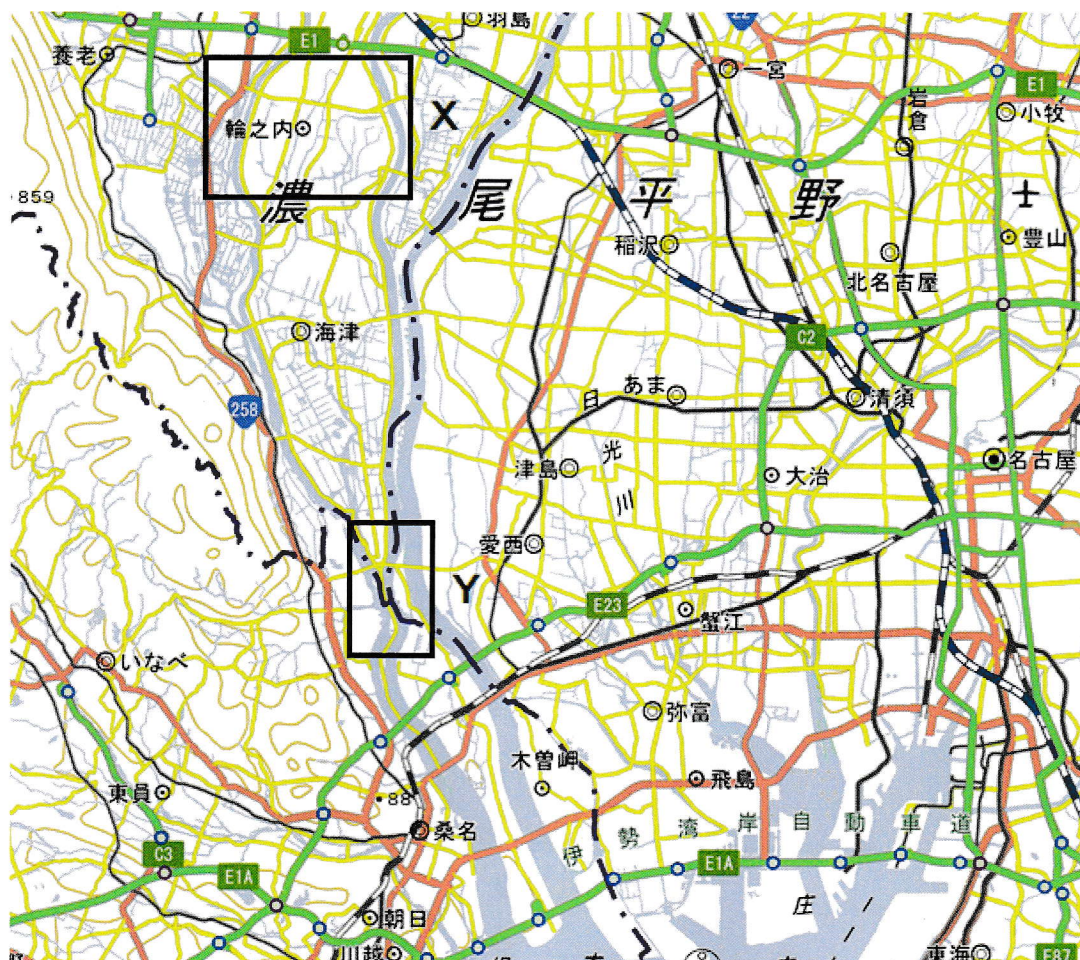


図4

地理院地図より作成



図5

(2019年撮影)

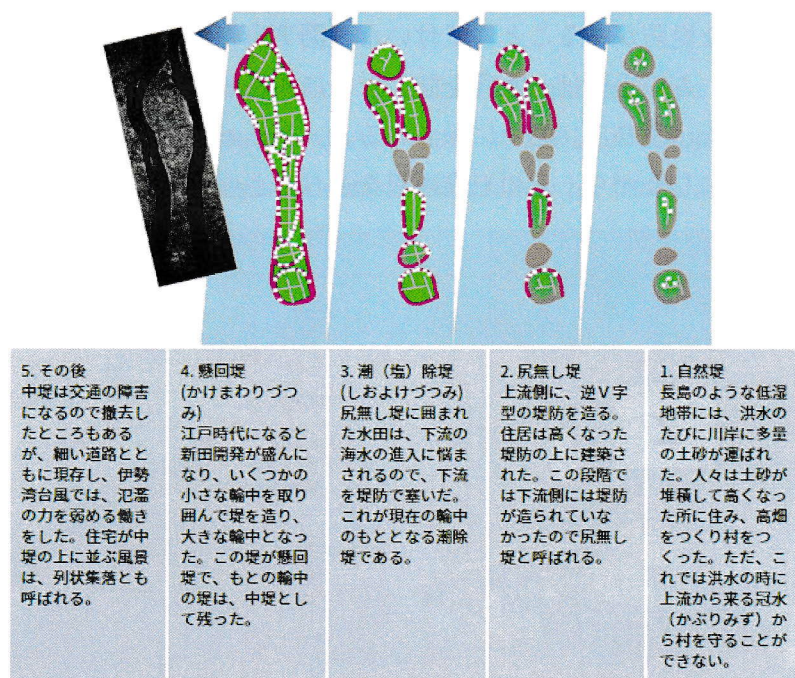


図6

桑名市長島町輪中の郷資料より



図7（図4中のXを拡大）

地理院地図より作成

- (3) スバルさんは、図4中のXの地域を調査すると、揖斐川と長良川に挟まれた地域内に図5のような堤防があることに気付いた(図7中のあ地点から←方向に撮影)。調べてみると、この堤防は、水害を防ぐために人工的に耕地や集落などを囲ったものだとわかった(図6)。図7に示されるa, b, cの囲堤集落について、図6の概念図を参考にしながら、その形成過程を述べなさい。




図8

(2019年撮影)

- (4) スバルさんは、図7中のい地点から→方向に撮影した(図8)。この写真で母屋から向かって左側の建物Zが造られた経緯を述べなさい。



図9

(2019年撮影)



図10

(2019年撮影)

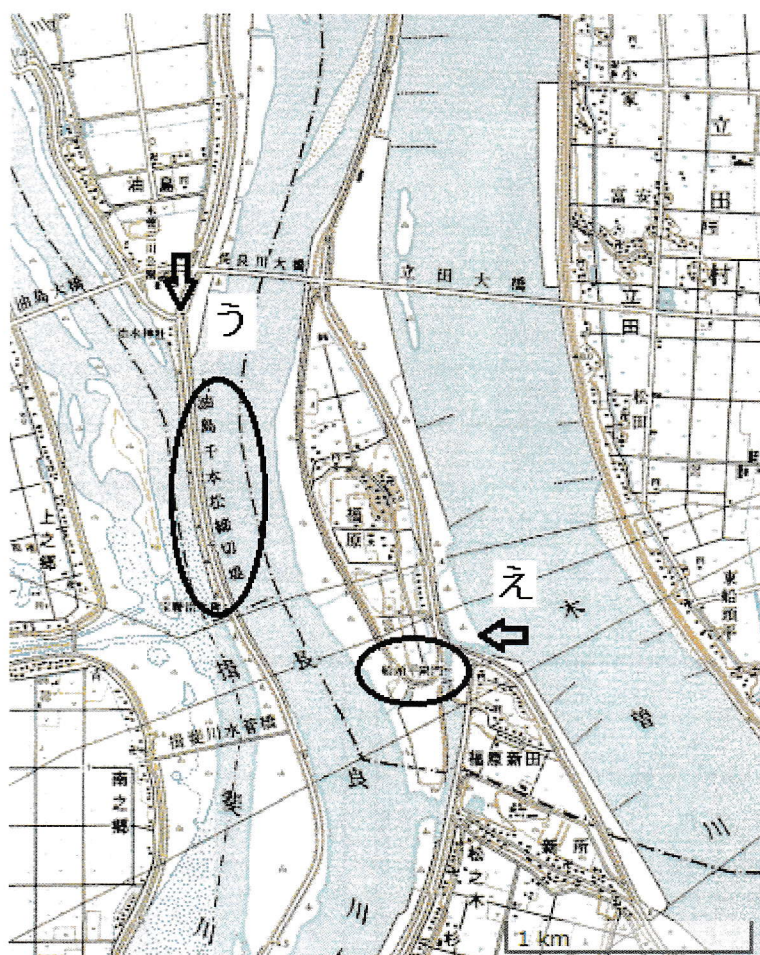


図11 (図10中のYを拡大)

地理院地図より作成

- (5) スバルさんは、展望台に上り河川の様子を眺めると、図9のように長良川と揖斐川の2つの河川が「油島千本松締切堤」という背割堤で区切られているのがわかった(図11中のう地点から↓方向に撮影)。また、その付近には図10のような「船頭平閘門」という閘門も見られた(図11中のえ地点から←方向に撮影)。河川を区切ることと、閘門を設置することの必要性には共通の要因が考えられる。それぞれの必要性について、説明しなさい。

G Answer the following questions on Turkey.

- 1 Figure 40 shows countries which are colored based on cultural indexes. Map **A** shows countries by continent except Turkey, while map **A'** includes Turkey. As **A1** is colored in yellow on the map **A'** it belongs to Asia.

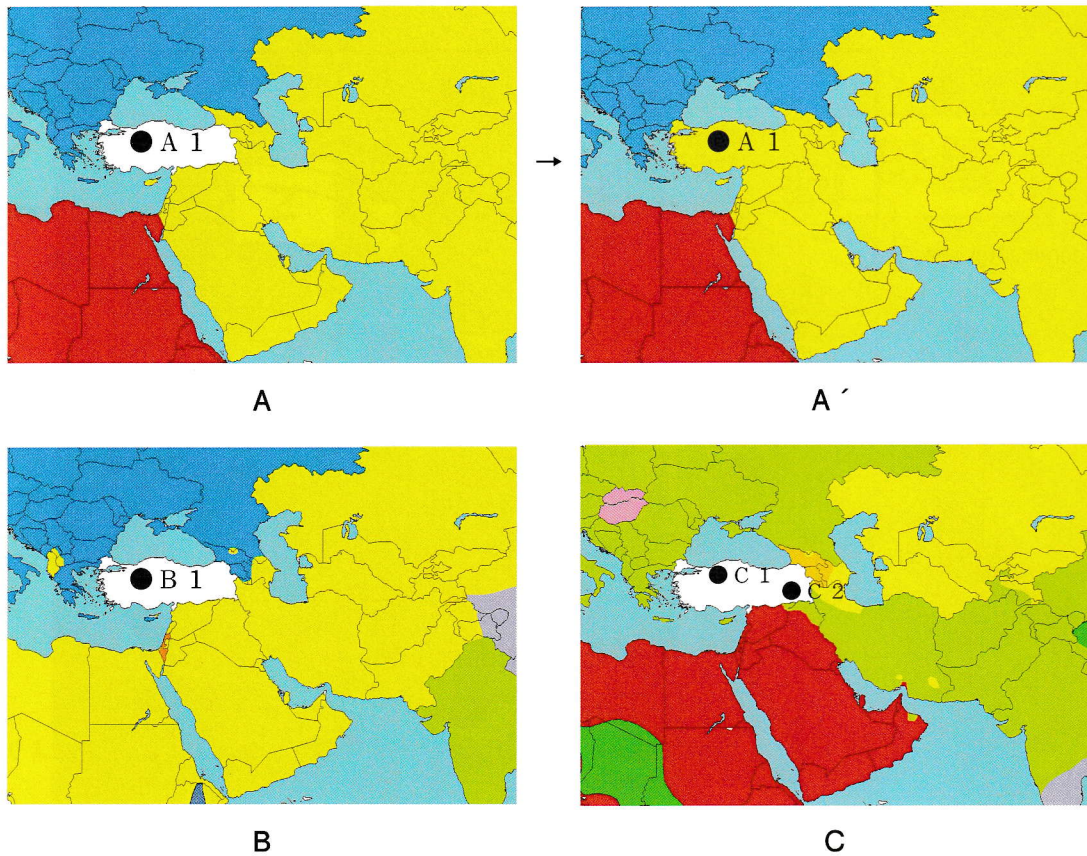


Figure 40

国立民族博物館資料，Diercke Weltatlas 2008 ほかより作成

- (1) Study the maps **B** and **C**. Which color do you suggest for **B1**, **C1**, and **C2** based on what classification?